

صف سادس /

قسم الرياضيات

التاريخ : / /



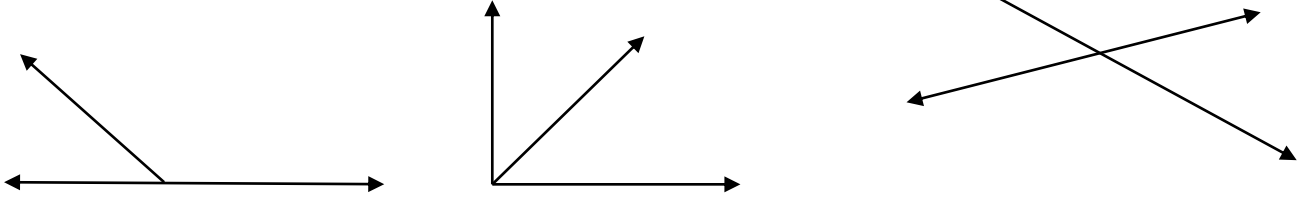
نشاط فردي ١١ : العلاقات بين الزوايا

مملكة البحرين

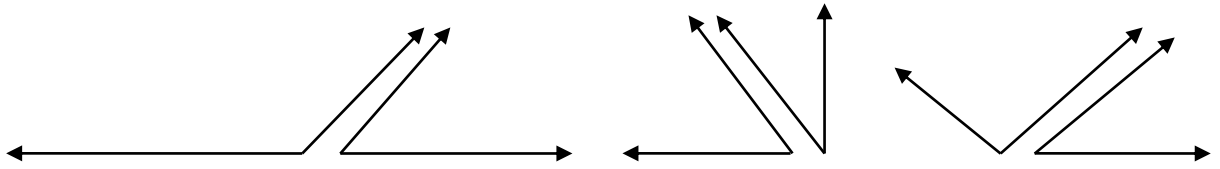
وزارة التربية والتعليم

مدرسة الفلاح عالي للبنين

المستوى الاول : أوجد قيمة س في كل مما يأتي ؟

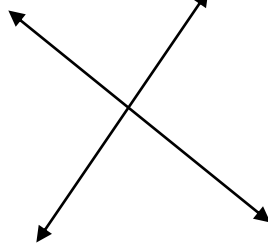


المستوى الثاني : صنف كلا من زوجي الزوايا الاتية الي متكاملتين أو متتامتين ، أو غير ذلك ؟



صنف كل زوج من الأزواج الاتية :

المستوى الثالث :



(١)

(٢)

(٣)

(٤)

(٥)

سؤال تحدي : أجب عن كل من الاسئلة الاتية :

(١) مانوع الزاوية المكملة لزاوية حادة ؟

(٢) مانوع الزاوية المكملة لزاوية قائمة ؟

(٣) هل يمكن لزاويتين حادتين أن تكونا متكاملتين ؟

الواجب المدرسي : حل تمارين كراسة التمارين صفحة ١٦

★ حل تمارين من رقم ١ حتى رقم ٦ ★★ حل التمارين من ١ حتى رقم ٩ ★★★ حل التمارين من رقم ٦ حتى رقم ١٢