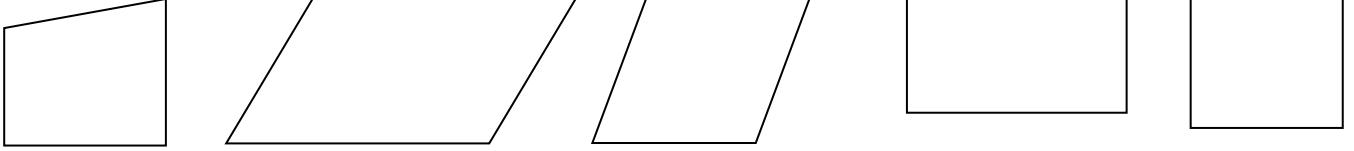


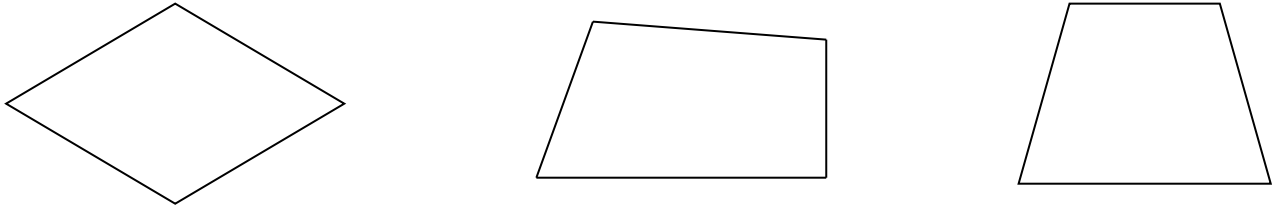
سمي الأشكال الآتية ؟

المستوى الأول :



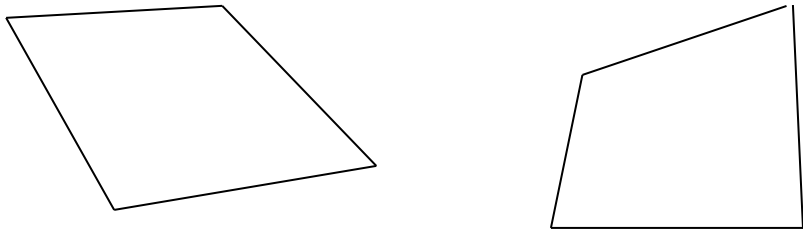
أوجد قيمة س في كل من الأشكال الآتية ؟

المستوى الثاني :



أوجد قيمة س في كل من الأشكال الآتية :

المستوى الثالث :



سؤال تحدي : صف شينين مختلفين من واقع الحياة يمثلان أشكالاً رباعية ، ثم سمي هذه الأشكال ؟

الواجب المدرسي : حل تمارين كراسة التمارين صفحة ١٨

★ حل تمارين من رقم ١ حتى رقم ٦ ★★ حل التمارين من ١ حتى رقم ٩ ★★★ حل التمارين من رقم ٦ حتى رقم ١٢