

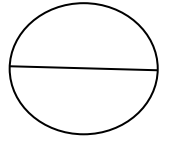
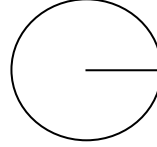
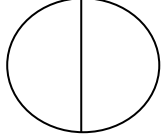
السؤال الاول: أوجد نصف القطر أو القطر لكل دائرة مما يأتي؟

(٣) ق = ٤٦ ملم

(٢) نق = ٧ سم

(١) ق = ١٢ م

السؤال الثاني: قدر محيط كل دائرة مما يأتي؟



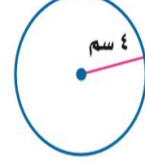
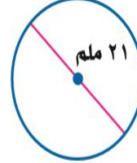
أوجد نصف القطر أو القطر لكل دائرة مما يأتي:

٣ ق = ٢٠ ملم

٢ نق = ١٤ سم

١ ق = ٣ م

قدر محيط كل دائرة مما يأتي:



أوجد محيط كل دائرة مما يأتي مقرباً إلى أقرب جزء من عشرة (استعمل ط ≈ ٣, ١٤):

