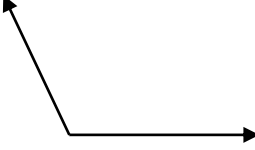




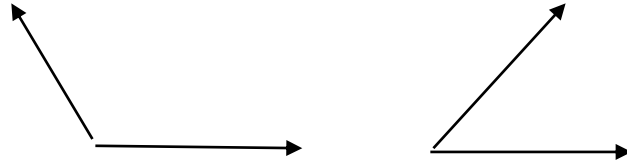
صنف كل من الزوايا الاتية واكتب اسم الزاوية :

المستوى الاول :

		
نوع الزاوية: قياسها:	نوع الزاوية: قياسها:	نوع الزاوية: قياسها:

أوجد قياس كل زاوية مما يأتي مستعملا المنقلة، ثم صنف نوعها :

المستوى الثاني :



أوجد قياس كل زاوية مما يأتي مستعملا المنقلة، ثم صنف نوعها :

المستوى الثالث :

سؤال تحدي :

الواجب المدرسي : حل تمارين كراسة التمارين صفحة ١٢

★ حل تمارين من رقم ١ حتى رقم ٦ ★★ حل التمارين من ١ حتى رقم ٩ ★★★ حل التمارين من رقم ٥ حتى رقم ١٢