

ورقة عمل رقم (١٥)


اسم الطالب:	عنوان الدرس : وحدات قياس الطول - قياس المحيط	التاريخ :
الفصل الدراسي : الثاني	نوع ورقة العمل :	الصف : ٤ ب

نتائج التعلم: (١) قياس الطول
(٢) قياس المحيط

قِسْ طُولَ كُلِّ مِنَ الْأَشْيَاءِ الْآتِيَةِ إِلَى أَقْرَبِ سَنْتِمِترٍ:



(2)



(1)

اخْتَرِ أَفْضَلَ تَقْدِيرٍ لَطُولِ كُلِّ مِمَّا يَأْتِي:

(2) سُمْكُ خَيْطِ الصُّوفِ:



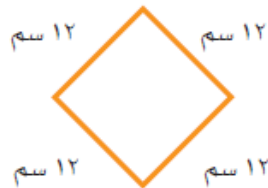
- (هـ) ١ مِلِمِتر.
(و) ١ مِتر.
(ز) ١ سَنْتِمِتر.

(1) طُولُ الْقَارِبِ:

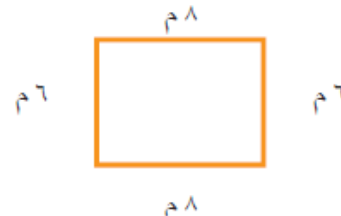


- (أ) ٦ سَنْتِمِتراتِ.
(ب) ٢ مِتر.
(ج) ٦ أمتارِ.

قَدِّرْ مُحِيطَ كُلِّ شَكْلِ مِمَّا يَأْتِي، ثُمَّ أَوْجِدْهُ بِالضَّبْطِ:



(2)




(1)

قَدِّرْ مُحِيطَ كُلِّ شَكْلِ مِمَّا يَأْتِي، ثُمَّ أَوْجِدْهُ بِالْوَحْدَةِ الظَّاهِرَةِ فِي الشَّكْلِ:



(2)



(1)