

ورقة عمل رقم (١٩)

اسم الطالب:	عنوان الدرس : الكسور المتكافئة	التاريخ :
الفصل الدراسي : الثاني	نوع ورقة العمل :	الصف : ٤ ب

نتائج التعلم: (١) إيجاد الكسور المتكافئة

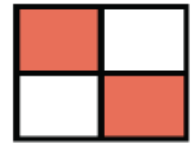
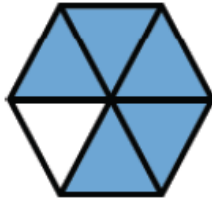

أوجد كسراً مكافئاً لكل كسر مما يأتي:

$$= \frac{2}{5}$$

$$= \frac{2}{3}$$

$$= \frac{1}{4}$$

اكتب الكسر الذي يمثّل الجزء المظلل، ثمّ أوجد كسراً مكافئاً له:



..... =

..... =

..... =

..... =

لدى شركة ١٠ سيارات ، إذا كانت ٣ منها خضراء ، فاكتب كسر يمثّل السيارات الخضراء وكسر مكافئ له .

..... =