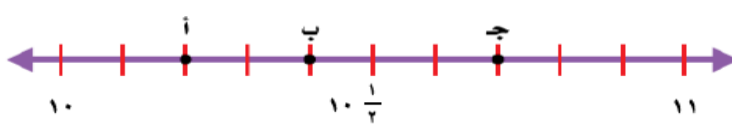


ورقة عمل رقم (٢٤)

اسم الطالب:	عنوان الدرس : تمثيل الكسور العشرية على خط الأعداد	التاريخ :
الفصل الدراسي : الثاني	نوع ورقة العمل :	الصف : ٤ ب

نتائج التعلم: (١) تمثيل الكسور العشرية على خط الأعداد

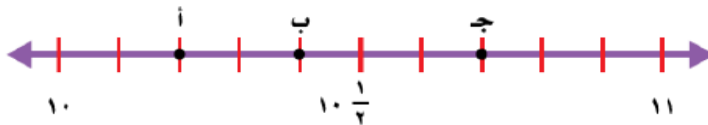
حدّد النُقطة التي تمثّل العدد الكسريّ على خطِّ الأعداد ؟



$10\frac{7}{10}$

النقطة هي

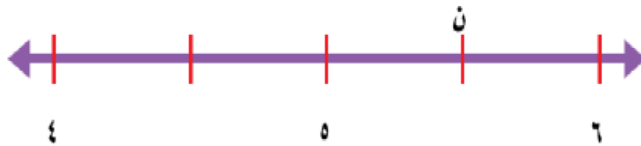
حدّد النُقطة التي تمثّل العدد الكسريّ على خطِّ الأعداد ؟ ثمّ اكتبه بصورة كسرٍ عشريّ :



$10\frac{2}{10}$

النقطة هي الكسر العشري هو

حدّد العدد الكسريّ الذي تمثّله النُقطة ن. ثمّ اكتبه بصورة كسرٍ عشريّ:



العدد الكسري هو

الكسر العشري هو