

ورقة عمل رقم (٧)

اسم الطالب: .....	عنوان الدرس : الأشكال الثلاثية الأبعاد	التاريخ : .....
الفصل الدراسي : الثاني	نوع ورقة العمل :	الصف : ٤ ب


نتائج التعلم: (١) يتعرف الأشكال الثلاثية الأبعاد  
(٢) يصف الأشكال الثلاثية الأبعاد ومخططاتها

أكتبى اسم الشكل وحدد عدد الأوجه والأحرف والرؤوس :-

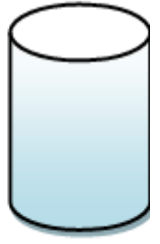
السؤال الأول :



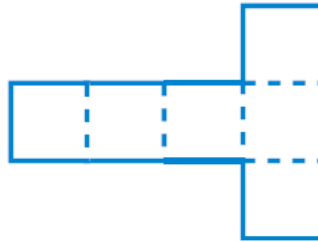
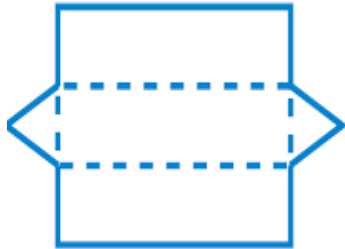
اسم الشكل :  
عدد الأوجه :  
عدد الأحرف :  
عدد الرؤوس :



اسم الشكل :  
عدد الأوجه :  
عدد الأحرف :  
عدد الرؤوس :



س ٢ : سم الشكل الثلاثي الأبعاد الذي يمثله كل مخطط



شكّل ثلاثي الأبعاد، له ٤ أوجه، و ٦ أحرف،  
و ٤ رؤوس، ما اسمه؟

ارسم شكلاً ثلاثي الأبعاد، ثم صف أوجهه، وأحرفه، ورؤوسه؟