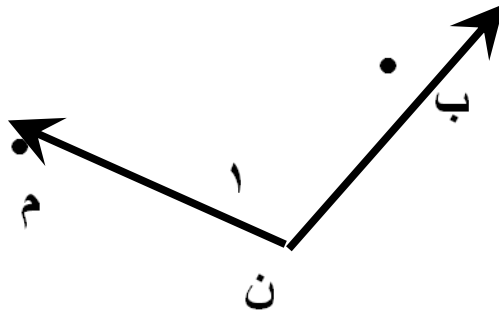


ورقة عمل رقم (١٠)

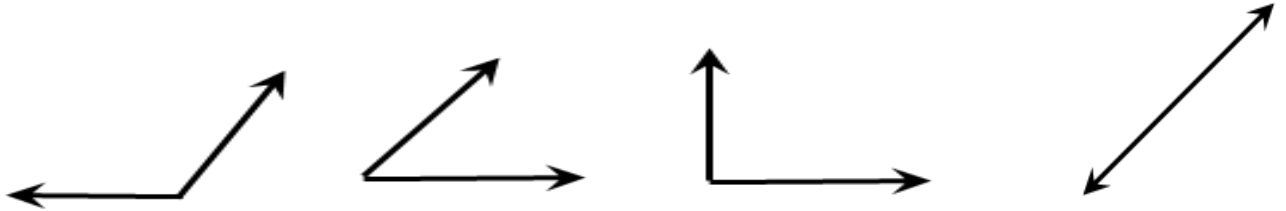
اسم الطالب:	عنوان الدرس: العلاقات بين الزوايا	التاريخ :
الفصل الدراسي : الثاني	نوع ورقة العمل :	الصف : السادس

نتائج التعلم: (١) يسمى الطالبا الزاوية
(٢) . يصنف الطالبا الزوايا

سم الزاوية بأربعة طرق مختلفة

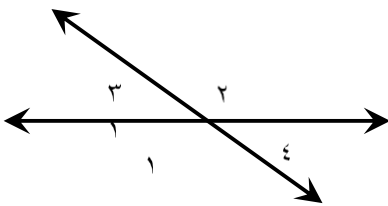


صنف الزوايا التالية إلى حادة أو قائمة أو من منفرجة أو مستقيمة

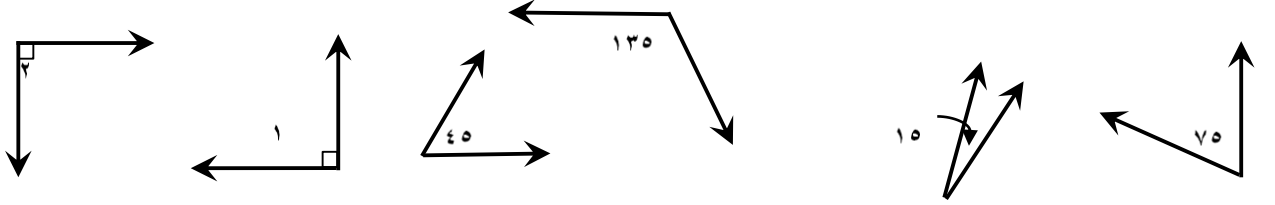


من الشكل المقابل

اكتب زوجاً من الزوايا المتجاورة
اكتب زوجاً من الزوايا المتقابلة بالرأس



حدد هل كل زوج من الزوايا التالية متتام أو متكاملة أو غير ذلك



أوجد قيمة س

