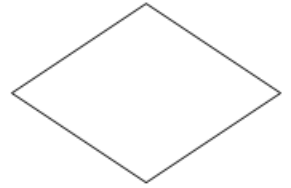
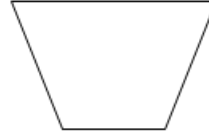
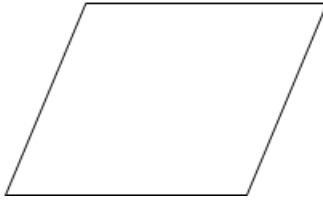
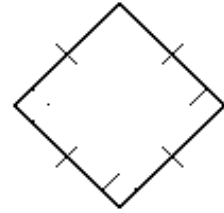
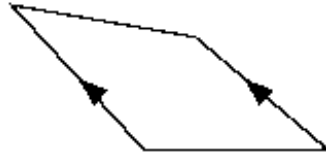
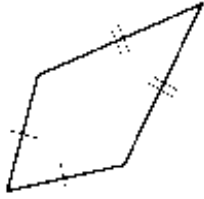


ورقة عمل رقم (١٢)

اسم الطالب:	عنوان الدرس: الأشكال الرباعية	التاريخ:
الفصل الدراسي: الثاني	نوع ورقة العمل:	الصف: السادس

نتائج التعلم: (١) تصنيف الأشكال الرباعية
(٢) قيمة زاوية مجهوله في شكل رباعي

صنف الشكل التالي بأفضل اسم له



أوجد قيمة س

