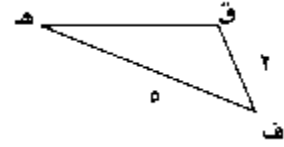
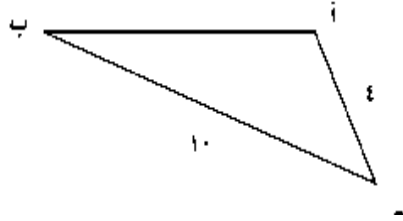
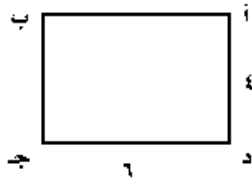


ورقة عمل رقم (١٣)

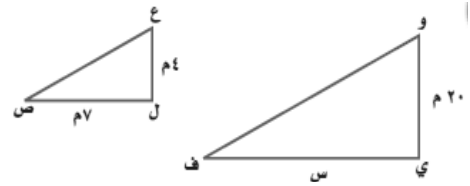
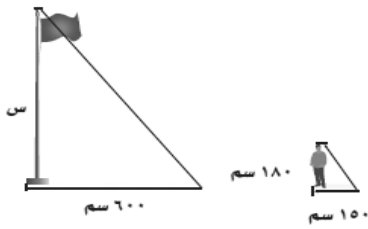
اسم الطالب:	عنوان الدرس: الاشكال المتشابهة والمتطابقة	التاريخ:
الفصل الدراسي: الثاني	نوع ورقة العمل:	الصف: السادس

نتائج التعلم: (١) تحديد الاشكال المتشابهة والمتطابقة
(٢) اليجاد قياس مجهول مستخدماً التشابه..

هل الشكلان متشابهان وضح ذلك



إذا علمت أن الشكلان متشابهان فأوجد قيمة المجهول



حدد هل الشكلان متطابقان أو متشابهان أو غير ذلك

