

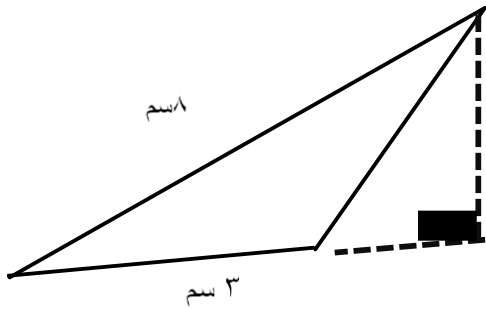
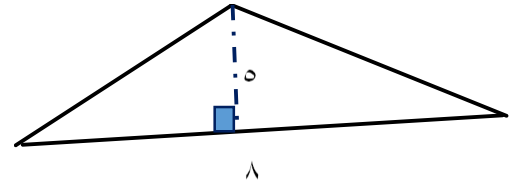
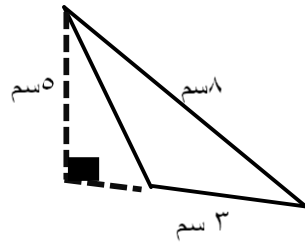
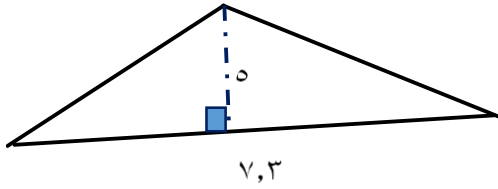
ورقة عمل رقم (١٦)

اسم الطالب:	عنوان الدرس: مساحة المثلث	التاريخ :
الفصل الدراسي : الثاني	نوع ورقة العمل :	الصف : السادس...

نتائج التعلم: (١) إيجاد مساحة المثلث

(٢) تطبيقات على مساحة المثلث

أوجد مساحة المثلث في كلاً مما يأتي



إذا علمت أن حديقة منزلك على شكل مثلث أبعاده كما بالشكل، احسب مساحته

صمم شكلاً هندسياً على شكل مثلث. ما مساحة الشكل؟

