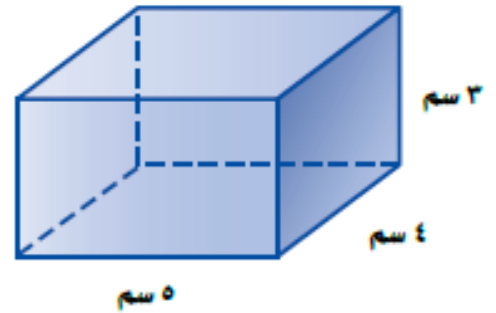
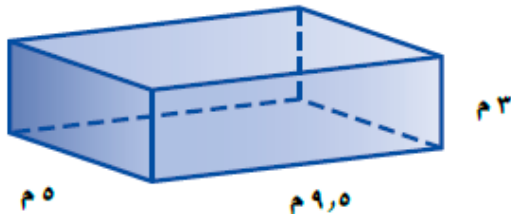
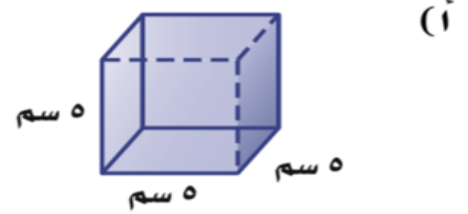
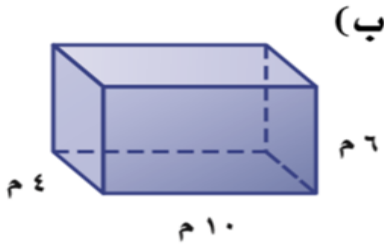


ورقة عمل رقم (١٨)

اسم الطالب: .....	عنوان الدرس: حجم المنشور الرباعي	التاريخ: .....
الفصل الدراسي: الثاني	نوع ورقة العمل: .....	الصف: السادس

نتائج التعلم: (١) إيجاد حجم المنشور الرباعي  
(٢) تطبيقات على حجم المنشور الرباعي

أوجد حجم كل منشور رباعي مما يأتي:



**تسويق:** تريد إحدى الشركات صناعة أنواع من الحقائب. وتريد تحديد أي  
النموذجين الآتيين أكبر سعة؟

