

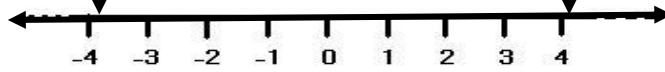
ورقة عمل رقم (٢٠)

اسم الطالبة :	عنوان الدرس : الأعداد الصحيحة	اليوم والتاريخ :
الفصل الدراسي : الثاني	نوع ورقة العمل :	الصف : ٥ ب

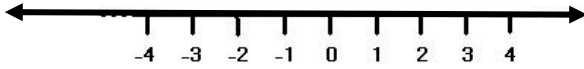
نتائج التعلم : ١ - تمثيل الأعداد الصحيحة على خط الأعداد

الأعداد الصحيحة السالبة: هي أعداد
صحيحة أصغر من (٠) تكتب مسبوقه (-)

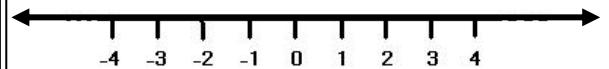
الأعداد الصحيحة الموجبة: هي أعداد
صحيحة أكبر من (٠)



☆ (٢) خصم ٤ درجات من الدرجة الكلية

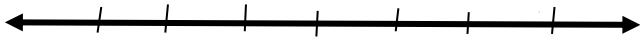


اكتبي عدداً صحيحاً يمثل كل موقف مما
يأتي، ثم مثليه على خط الأعداد:
(١) فقدان دينارين.



اكتبي عدداً صحيحاً يمثل كل موقف مما يأتي، ثم
مثليه على خط الأعداد واكتب معكوسه
(١) ٢٠ درجة فوق الصفر.

(٢) صرف ماجد ٤٠ دينار.



اكتبي عدداً صحيحاً يمثل كل موقف مما
يأتي، ثم مثليه على خط الأعداد واكتب
معكوسه

(١) قطع مسافة ٥ أمتار إضافية

(٢) في عمق الارض ٣ أمتار

