


ورقة عمل رقم (٦)

اسم الطالبة :	عنوان الدرس : النسب المئوية والكسور العشرية	اليوم والتاريخ :
الفصل الدراسي : الثاني	نوع ورقة العمل :	الصف : ٦ /

نتجات التعلم : كتابة النسب المئوية على صورة كسر عشري
كتابة الكسر العشري على صورة نسبة مئوية

اكتب كل نسبة مئوية مما يأتي على صورة كسر عشري:


 ١٠٤٪


٢٪ 

١٧٪ 

اكتب كل كسر عشري مما يأتي على صورة نسبة مئوية:

 ٣,٥٥

١,٧٥ 

٠,٢٢ 



ضع إشارة > أو < أو = مكان لتصبح كل جملة مما يأتي صحيحة:

٢,٣ ٢٣٪

٠,٥ ٥٪

٠,٢ ١٨٪