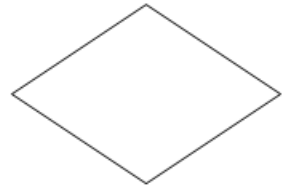
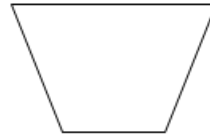
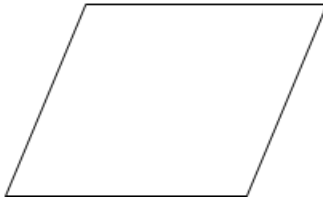
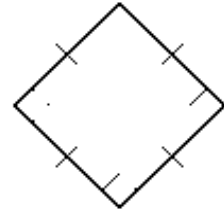
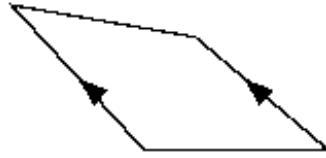
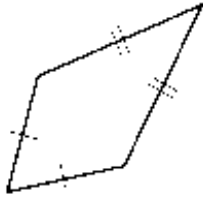


ورقة عمل رقم (17)

اسم الطالب: .....	عنوان الدرس : الأشكال الرباعية	التاريخ : .....
الفصل الدراسي : الثاني	نوع ورقة العمل : .....	الصف : لأول الإعدادي

نتائج التعلم: (1) تصنيف الأشكال الرباعية  
(2) قيمة زاوية مجهوله في شكل رباعي

صنف الشكل التالي بأفضل اسم له



أوجد قيمة س

