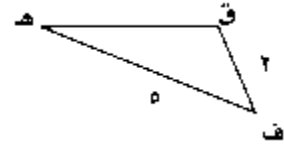
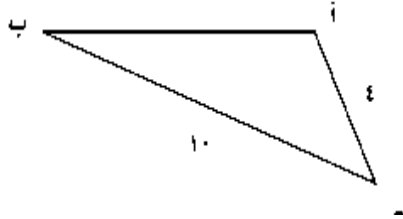
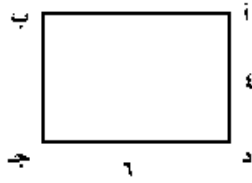


ورقة عمل رقم ( 18 )

اسم الطالب: .....	عنوان الدرس : الاشكال المتشابهة	التاريخ : .....
الفصل الدراسي : الثاني	نوع ورقة العمل : .....	الصف : لأول الإعدادي

نتائج التعلم: (1) تحديد الاشكال المتشابهة  
(2) اليجاد قياس مجهول مستخدماً التشابه..

هل الشكلان متشابهان وضح ذلك



إذا علمت أن الشكلان متشابهان فأوجد قيمة المجهول

