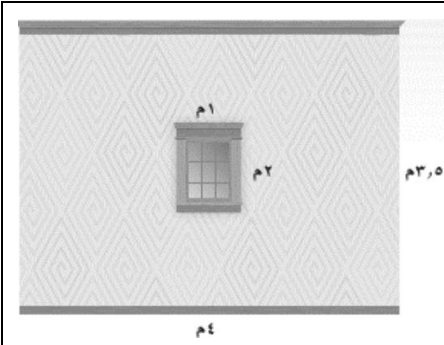


## ورقة عمل رقم ( ٢٤ )

اسم الطالب: .....	عنوان الدرس : خطة حل المسألة- مساحة الاشكال المركبة	التاريخ : .....
الفصل الدراسي : .....	نوع ورقة العمل : .....	الصف : .....

نتائج التعلم : (١) حل المسائل باستعمال (حل مسألة ابسط)  
(٢) أن يجد الطالب مساحة الاشكال المركبة



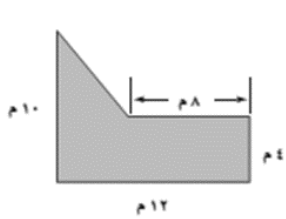
قام سالم بإلصاق ورق جدران على احد جدران منزله.

ما مساحة الجزء الذي بإلصاق الورق عليه؟

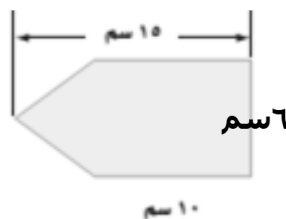
النسبة	القارة
٪٣٠	آسيا
٪٢٠,٢	إفريقيا
٪١٦,٥	أمريكا الشمالية
٪١٢	أمريكا الجنوبية
٪٨,٩	القارة القطبية
٪٦,٧	أوروبا
٪٥,٣	أستراليا

يبين الجدول الآتي النسبة المئوية لمساحة كل قارة من مساحة اليابسة

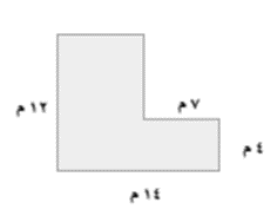
إذا كان مساحة اليابسة ١٤٧٢١٤٦١٠ كم<sup>٢</sup> فاحسب المساحة التقريبية لكل قارة



أوجد  
مساحة الشكل

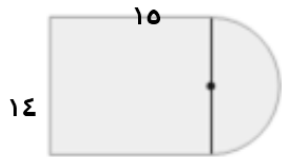


أوجد  
مساحة الشكل



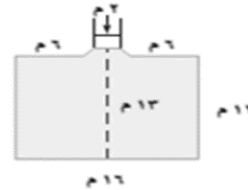
أوجد  
مساحة الشكل

مخطط بناء يبين الشكل المجاور غرفة مستطيلة أبعادها ١٥م × ١٤م مضافاً إليها غرفة جلوس على شكل نصف دائرة قطرها ١٤م. ما مساحة الغرفة مع غرفة الجلوس



الجلوس

تبليط .يبين الشكل المجاور مخططاً هندسياً لمسجد .إذا أردنا تبليط أرض المسجد . فكم متراً مربعاً من البلاط نلزم لتبليطه؟



للتميز

حل رقم ٦ ص ٣٣

للافضل

حل رقم ٣ ، ٤ ص ٣٣

الواجب المتري كتاب النمارين

حل رقم ١ ، ٢ ص ٣٣