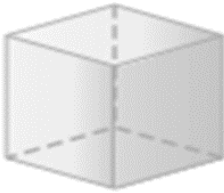





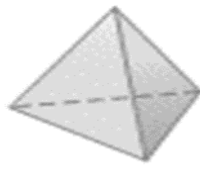

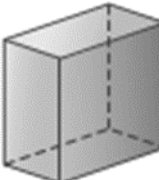











ورقة عمل رقم (٢٥)

اسم الطالب:	عنوان الدرس : الأشكال الثلاثية الأبعاد- رسم الأشكال الثلاثية	التاريخ :
الفصل الدراسي :	نوع ورقة العمل :	الصف :

نتائج التعلم : (١) أن يصنف الطالب الشكل
(٢) أن يرسم الطالب المنظر العلوي والجانبى والأمامى.

حدد شكل القاعدة ثم صنف الشكل	حدد شكل القاعدة ثم صنف الشكل	حدد شكل القاعدة ثم صنف الشكل
		
منازل : يتكون المنزل المجاور من شكلين ثلاثيين الأبعاد سمها.	يتكون القلم المجاور من شكلين ثلاثيين الأبعاد سمها .	صنّف الشكل المجاور كشكل ثلاثي الأبعاد؟
		
للتميز حل رقم ١٠ ص ٣٤	لأفضل حل رقم ٣ ، ٤ ص ٣٤	الواجب المترلي كتاب التمارين حل رقم ١ ، ٢ ص ٣٤
ارسم المنظر العلوي والجانبى والأمامى	ارسم المنظر العلوي والجانبى والأمامى	ارسم المنظر العلوي والجانبى والأمامى
		
ارسم الشكل الثلاثية الأبعاد المبين منظرها العلوي والجانبى والأمامى أدناه:	ارسم الشكل الثلاثية الأبعاد المبين منظرها العلوي والجانبى والأمامى أدناه:	ارسم الشكل الثلاثية الأبعاد المبين منظرها العلوي والجانبى والأمامى أدناه:
أمام جانب أعلى   	أمام جانب أعلى   	أمام جانب أعلى   
للتميز حل رقم ٥ ص ٣٥	لأفضل حل رقم ٣ ، ٤ ص ٣٥	الواجب المترلي كتاب التمارين حل رقم ١ ، ٢ ص ٣٥