

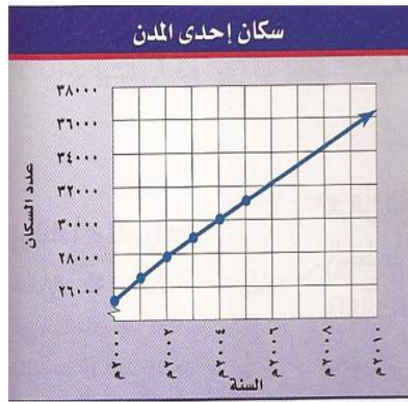
ورقة عمل رقم (5)

اسم الطالب: .....	عنوان الدرس : استعمال البيانات للتنبؤ	التاريخ : .....
الفصل الدراسي : الثاني	نوع ورقة العمل : .....	الصف : الأول الإعدادي

**نتائج التعلم : \*\* يحل البيانات الممثلة بالخطوط وشكل الانتشار للتوصل إلى تنبؤات واستنتاجات**



① الشكل المجاور يوضح مقدار الزيادة في عدد سكان إحدى المدن الصغيرة .

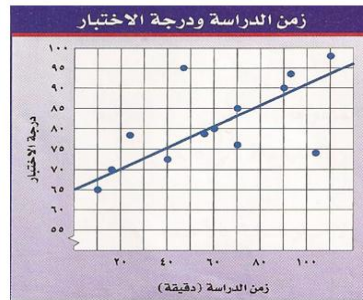


⑤ صف العلاقة بين مجموعتي البيانات .

⑥ إذا استمر النمو بالمعدل نفسه فكم يصبح

عدد سكان المدينة عام ٢٠١٠م؟؟

② استعملي الشكل الذي يمثل الوقت الذي قضاه الطلاب في الدراسة استعداداً لاختبار اللغة العربية ، ودرجاتهم في ذلك الاختبار .



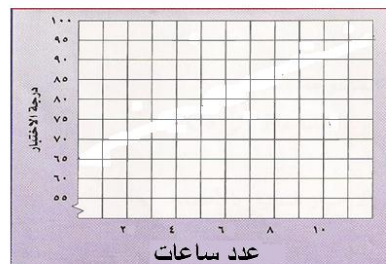
⑤ ما الدرجة التي يتوقع أن يحصل عليها طالب

درس مدة ساعة واحدة؟

⑥ إذا حصل أحد الطلاب على درجة ٩٠ في الاختبار .

فما الزمن التقريبي الذي استغرقه هذا الطالب في الدراسة؟

③ استعملي الجدول التالي الذي يبين العلاقة بين عدد ساعات النوم قبل الاختبار والدرجات التي تحققت في اختبار الرياضيات .



درجة الاختبار	ساعات النوم
٩٦	٩
٨٨	٨
٧٦	٧
٧١	٦

⑤ اعرضي البيانات على شكل انتشار .

⑥ صفي العلاقة بين مجموعتي البيانات .

⑥ تتبأ بدرجة الاختبار لطالب نام ٥ ساعات .