

ورقة عمل رقم (١٦)

اسم الطالب:	عنوان الدرس : تمثيل الدوال الخطية	التاريخ :
الفصل الدراسي : الثاني	نوع ورقة العمل :	الصف : الثاني الإعدادي

نتائج التعلم: (١) تمثيل الدالة الخطية (٢) تحديد أفضل تمثيل للعلاقة الخطية

مثل بيانيا الدالة

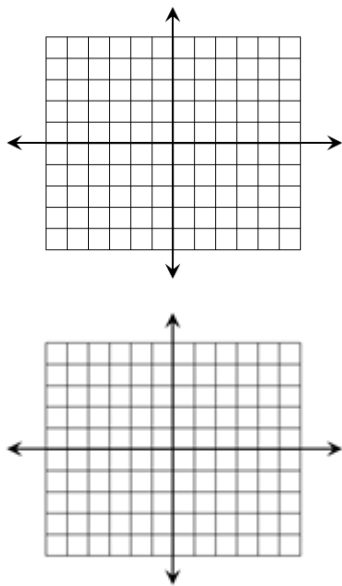
(١) $ص = س + ٢$ بيانيا

س	س+٢	ص	(س،ص)
٠	٢+٠	٢	(٢،٠)
١			
٢			

(٢) مثل بيانيا الدالة

ص = ٢س بيانيا

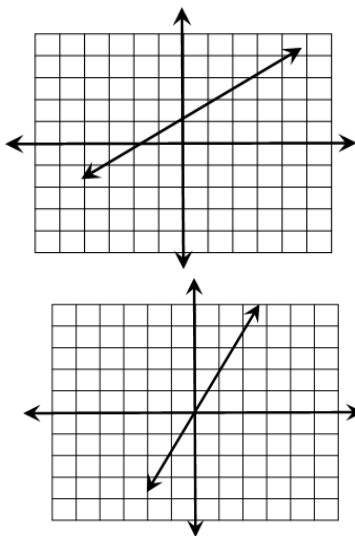
س	٢س	ص
١		
٢		
٣		
٤		



حدد التمثيل البياني المناسب للدالة التي يمثلها

الزوجان المرتبان (٠،١) ، (٣،٣)

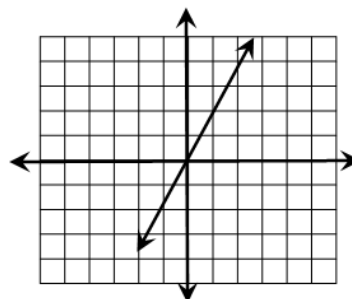
س	٠	٣
ص	١	٣



أى جدول يمثل الرسم البياني الجاور

س	١	٢	٣	٤
ص	٢	٣	٤	٥

س	٠	١	٢	٣
ص	٠	٢	٤	٦



حدد الأزواج المرتبة التي يمثلها الرسم البياني التالي

للدالة

