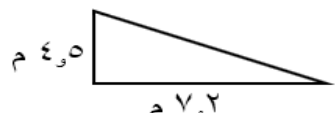
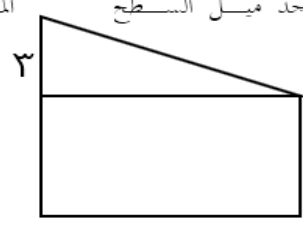


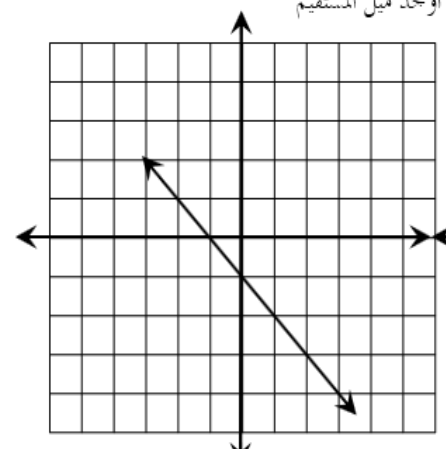
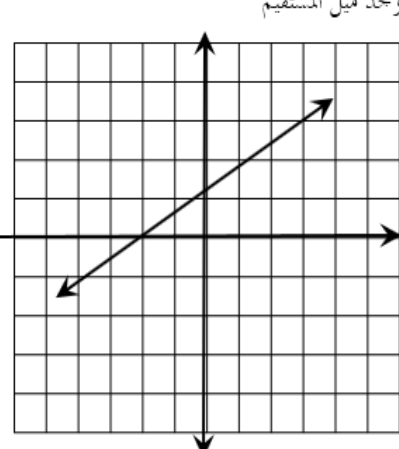
ورقة عمل رقم (١٧)

اسم الطالب:	عنوان الدرس : ميل المستقيم	التاريخ :
الفصل الدراسي : الثاني	نوع ورقة العمل :	الصف : الثاني الإعدادي

نتائج التعلم: (١) التعرف على ميل المستقيم
(٢) إيجاد ميل المستقيم باستعمال الجدول
(٣) إيجاد الميل باستخدام الاحداثيات من الرسم

<p>أوجد ميل طريق تزلج ترتفع ٤٥٠ م لكل تغير أفقي ٧٠٢ م</p>  <p>الميل = $\frac{\text{التغير الافقي}}{\text{التغير الراسي}}$</p> <p>_____ =</p>	<p>المجاور</p> <p>أوجد ميل السطح</p>  <p>الميل = $\frac{\text{التغير الافقي}}{\text{التغير الراسي}}$</p> <p>_____ =</p>	<p>أوجد ميل سطح مرتفع ٣ أقدام لكل تغير أفقي ١٥ قدم</p> <p>الميل = $\frac{\text{التغير الافقي}}{\text{التغير الراسي}}$</p> <p>_____ =</p>
------------------------------------------------------------------------------------------------------------------------------------------------------------------------------------------------------------------------------------------	----------------------------------------------------------------------------------------------------------------------------------------------------------------------------------------------------------------------	-----------------------------------------------------------------------------------------------------------------------------------------------------

<p>أوجد ميل المستقيم المار بالنقاط الموضحة بالجدول</p> <table border="1" data-bbox="159 1097 606 1209"> <tr> <td>س</td> <td>٦-</td> <td>٢-</td> <td>٢</td> <td>٦</td> </tr> <tr> <td>ص</td> <td>٢-</td> <td>١-</td> <td>٠</td> <td>١</td> </tr> </table> <p>الحل</p> <p>س = ١ ص = ٢</p> <p>_____ = م</p>	س	٦-	٢-	٢	٦	ص	٢-	١-	٠	١	<p>أوجد ميل المستقيم المار بالنقاط الموضحة بالجدول</p> <table border="1" data-bbox="638 1142 1037 1254"> <tr> <td>س</td> <td>٣-</td> <td>٣</td> <td>٩</td> <td>١٥</td> </tr> <tr> <td>ص</td> <td>٣-</td> <td>١</td> <td>٥</td> <td>٩</td> </tr> </table> <p>الحل</p> <p>س = ١ ص = ٢</p> <p>_____ = م</p>	س	٣-	٣	٩	١٥	ص	٣-	١	٥	٩	<p>أوجد ميل المستقيم المار بالنقاط الموضحة بالجدول</p> <table border="1" data-bbox="1117 1142 1452 1254"> <tr> <td>س</td> <td>١</td> <td>٢</td> <td>٣</td> </tr> <tr> <td>ص</td> <td>١</td> <td>٥</td> <td>٧</td> </tr> </table> <p>الحل</p> <p>س = ١ ص = ٢</p> <p>_____ = م</p>	س	١	٢	٣	ص	١	٥	٧
س	٦-	٢-	٢	٦																										
ص	٢-	١-	٠	١																										
س	٣-	٣	٩	١٥																										
ص	٣-	١	٥	٩																										
س	١	٢	٣																											
ص	١	٥	٧																											

<p>أوجد ميل المستقيم</p> 	<p>أوجد ميل المستقيم</p> 	<p>أوجد ميل المستقيم المار بالنقاط (٠، ٢) ، (٣، ٧)</p>
--------------------------------------------------------------------------------------------------------------	---------------------------------------------------------------------------------------------------------------	--------------------------------------------------------