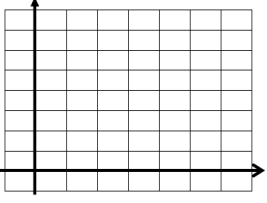
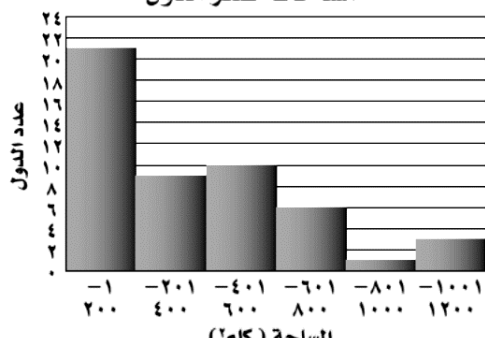


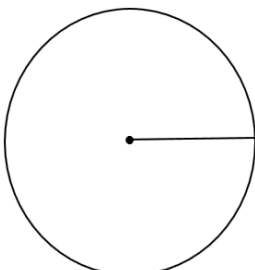
ورقة عمل رقم (٢٢)

اسم الطالب:	عنوان الدرس : المدرجات التكرارية - القطاعات الدائرية	التاريخ :
الفصل الدراسي : الثاني	نوع ورقة العمل :	الصف : الثاني الإعدادي

نتائج التعلم: (١) إن ينشئ الطالب المدرج التكراري (٢) ان يحلل الطالب البيانات ويفسرها (٣) أن يمثل الطالب البيانات بالقطاعات الدائرية (٤) أن يجد الطالب قيمة المجهول في التمثيل بالقطاعات الدائرية.

المستوى (أ)	المستوى (ب)																					
اختر فئات مناسبة لعمل جدول تكراري	في المثال السابق : أنشئ مدرجاً تكرارياً يمثل هذه البيانات																					
عدد ساعات حل الواجبات أسبوعياً																						
<table border="1"> <tr><td>٣</td><td>٠</td><td>٩</td><td>١</td><td>٤</td><td>٢</td><td>٠</td></tr> <tr><td>٣</td><td>٦</td><td>١٤</td><td>٤</td><td>٢</td><td>٥</td><td>٣</td></tr> <tr><td>٧</td><td>٣</td><td>٠</td><td>٨</td><td>٣</td><td>١٠</td><td></td></tr> </table>	٣	٠	٩	١	٤	٢	٠	٣	٦	١٤	٤	٢	٥	٣	٧	٣	٠	٨	٣	١٠		
٣	٠	٩	١	٤	٢	٠																
٣	٦	١٤	٤	٢	٥	٣																
٧	٣	٠	٨	٣	١٠																	

المستوى (أ)	المستوى (ب)
ما عدد الدول التي تقل مساحتها عن ٤٠١ كم ^٢ ؟	مساحات أصغر الدول
ما نسبة الدول التي تقع مساحتها بين ٢٠١ كم ^٢ - ٦٠٠ كم ^٢ ؟	

مثل كل مجموعة بيانات مما يأتي على شكل قطاعات دائرية :		
فصيلة الدم لطلاب إحدى المدارس		
الفصيلة	النسبة المئوية	زاوية القطاع
O	٤٠% = ٣٦٠ × ٠,٤٠
A	٤٥% = ٣٦٠ × ٠,٤٥
B	١٠% = × ٠,١٠
AB	٥% = × ٠,٠٥
المجموع	١٠٠%	٣٦٠

المستوى (ب) : أوجد القيمة المجهولة (س)	
س = ١٠٠% - (..... + + +)	
لوازم النظافة =%	
الواجب من كراسة التمارين : حل رقم ١، ٢، ٣ ص ٢٠ (المستويات أ، ب، ج)	
الواجب من كراسة التمارين : حل رقم ١، ٢، ٥ ص ٣٤ (المستويات أ، ب، ج)	

