
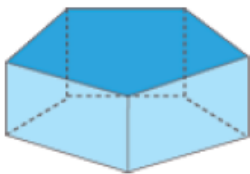



ورقة عمل رقم (٤)

اسم الطالب:	عنوان الدرس : الأشكال الثلاثية الأبعاد	التاريخ :
الفصل الدراسي : الثاني	نوع ورقة العمل :	الصف : الثاني الإعدادي

نتائج التعلم :
1) يحدد الأشكال ثلاثية البعاد
2) يعين مستوى موازي لمستوى ومستقيم يخالف مستقيم معلوم

من الشكل التالي أكمل :

			المجسم
			اسم المجسم
			عدد الأوجه
			شكل الأوجه
			عدد الأحرف
			عدد الرؤوس

أكمل:

مستوى موازي للمستوى د ص هـ ج هو

قطعة مستقيمة تخالف القطعة أ س هي

نقطتين تشكلان قطرا عند التوصليل بينهما هما

مستويان متقاطعان هما

